

注意事項：

1. 社會科試卷共 3 張，第一張地理科(1~17 題)、第二張歷史科(18~34 題)、第三張公民科(35~50 題)。請依序作答及劃卡。
2. 本測驗為電腦閱卷，請用 2B 鉛筆在答案卡上，填寫及劃記年級、座號，劃記錯誤者扣 10 分。

1. 地理老師用下圖水池裡進水與出水的情形，來說明一個地區人口數量的變化，請問下列敘述哪一項最正確？



- (A) 人口增加表示排水量大於進水量
 - (B) 人口成長只受到自然增加的影響
 - (C) 人口總數不變表示進水量等於排水量
 - (D) 出生與移入屬於自然增加
2. 夜寒在查閱一國的人口金字塔圖時發現他無法得知下列哪項資訊？
- (A) 人口性別組成
 - (B) 人口年齡組成
 - (C) 經濟發展程度
 - (D) 人口總數
3. 婉柔在電視上看到一則報導說如果台灣的人口組成中的「扶養比」由 50 降為 45，這代表台灣人口會出現何種現象？
- (A) 老年人口比例增加
 - (B) 壯年人口比例增加
 - (C) 性別比例嚴重失衡
 - (D) 自然增加率呈現負成長
4. 雪吟在高中畢業後到英國唸書，留學期間和法國人艾瑞克結婚，畢業後與先生回台灣定居；在台灣生了小毛和小方兩個小孩。請問：小毛和小方兩個小孩對於台灣人口數的改變屬於下列哪一種情形？
- (A) 自然增加
 - (B) 社會增加
 - (C) 國內遷移
 - (D) 國外遷移
5. 青蘭在聽老師講述人口狀況中有(甲)新住民增加 (乙)空間分布平均 (丙)少子化 (丁)人口老化等現象。請問上述哪些現象較為符合為現今台灣的人口狀況？
- (A) 甲乙丙
 - (B) 乙丙丁
 - (C) 甲丙丁
 - (D) 甲乙丁

6. 「俄烏自西元 2022 年爆發至今，在無情炮火摧殘下，不僅歷史遺跡遭受破壞，無辜的平民更是死傷無數。烽火連天的情勢迫使一批又一批的烏克蘭難民紛紛逃離家園，遠渡重洋至鄰近的歐洲。」請問：此波難民潮最可能造成烏克蘭國家的人口產生下列何種變化？

- (A) 出生率下降
- (B) 死亡率上升
- (C) 自然增加率上升
- (D) 社會增加率下降。

7. 玉明看到雜誌上介紹「臺灣人口密度約 623 人／平方公里，而美國人口密度約 30 人／平方公里。」根據以上敘述，其意涵為何？

- (A) 美國人口數較多
- (B) 台灣的人口數較多
- (C) 台灣的經濟高度發展
- (D) 美國人平均居住與活動的空間較大

8. 根據華視新聞報導台灣的性別比約為 98，其表示的意義，下列敘述何者正確？

- | | |
|------------------|------------------|
| (甲) 台灣的女性數量比男性多 | (乙) 台灣的男性數量比女性多 |
| (丙) 男性：女性=100：98 | (丁) 男性：女性=98：100 |
| (戊) 男女比例大致均衡 | (己) 急需改善男女不均狀況 |

- (A) 甲丁戊
- (B) 乙丙戊
- (C) 乙丁己
- (D) 甲丙戊。

9. 臺北市的人口密度超過 9,000 人／平方公里，高居全臺之冠，周邊的新北市及桃園市、新竹市也名列前茅，而臺東縣僅約 60 人／平方公里，為全臺之末。影響上述人口分布的主要因素，最可能為下列何者？

- (A) 行政區域調整
- (B) 就業機會數量
- (C) 人口出生多寡
- (D) 自然環境優劣

10. 現今臺灣年輕人流行打工度假，趁著年輕到澳洲或美、加等地工作，開拓自己的視野，再回國進入職場。這種現象對於澳洲等國家而言，屬於何種特色的人口遷移？

- (A) 具拉力的永久性遷移
- (B) 具推力的永久性遷移
- (C) 具拉力的暫時性遷移
- (D) 具推力的暫時性遷移


11. 電視新聞報導台灣在 2025 年步入超高齡社會，根據聯合國的標準，一國的老年人口達到多少比例即為超高齡社會？

- (A) 7%
- (B) 14%
- (C) 20%
- (D) 25%

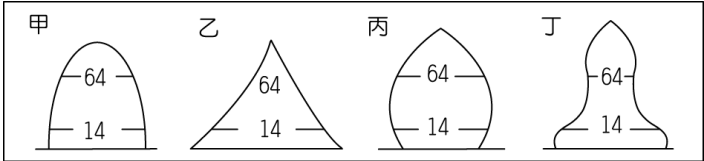
12. 內政部網站資訊顯示台灣目前因婚姻關係來的新移民已超過 50 萬人，政府也透過許多方式協助他們適應臺灣社會，請問外籍配偶以那兩個國家最多？
(A)泰國、印尼 (B)中國、越南
(C)中國、印尼 (D)印尼、菲律賓。

13. 佩吟看到地理雜誌上的附圖為臺灣 1980 年、2010 年及預估 2040 年的扶養比示意圖，依據年代先後順序排列應為下列何者？

請繼續作答

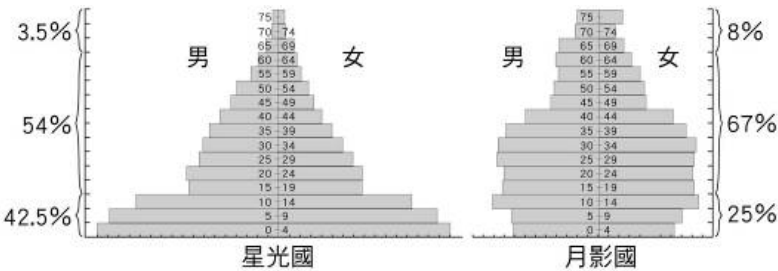


(A)乙甲丙 (B)乙丙甲 (C)甲丙乙 (D)甲乙丙。
14. 人口金字塔可以看出一個地區的人口結構和經濟發展特色。請問：下列四個地區的人口結構中，哪一個金字塔壯年人口呈現外移的特色？



(A)甲 (B)乙
(C)丙 (D)丁
15. 現今臺灣少子化惡化的速度超乎想像，面對人口負成長的人口懸崖，有學者認為政府過往提出的相關政策已是緩不濟急，或許可以透過社會增加的方向，思考提高國民人數的對策。根據上述內容判斷，下列何項對策與該學者的意見最相符？
(A)鼓勵各國人才歸化入籍
(B)增加公立幼兒托育中心
(C)提高國際移工僱用人數
(D)推動老人長期照護政策

16. 政郎比較星光國及月影國的人口金字塔圖。由圖發現兩國間的發展具有何種特色？



(A)星光國出生率較高 (B)星光國死亡率較低
(C)星光國扶養比較低 (D)星光國經濟發展程度較高

17. 文傑收集了甲乙丙丁四個國家的人口資料，請問哪兩個國家是屬於人口移入區？

項目	國家	甲	乙	丙	丁
出生率 (‰)		13	14	18	30
死亡率 (‰)		7	10	6	21
人口成長 (增加) 率 (‰)		5	8	13	6

(A)甲乙 (B)乙丁 (C)乙丙 (D)丙丁。